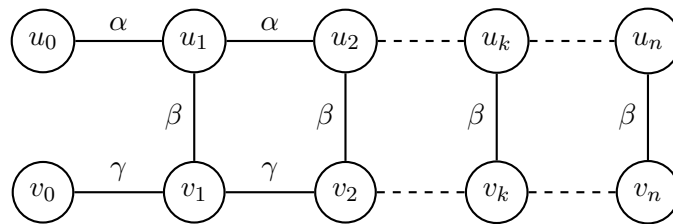


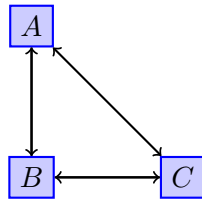
ĆWICZENIE 5

ANNA MURANOVA

1. GRAFY



RYSUNEK 1. Graf drabinowy



RYSUNEK 2. Strzałki

2. RYSOWANIE NA DWA SPOSOBY

Dla rysowania dwóch obrazków z jednym podpisem używa się jedno środowisko `figure`, ale dwa środowiska `tikzpicture` (pomiędzy dwoma `tikzpicture` można użyć `\hspace`). Jeżeli trzeba, użyj `scale`, nprz.:

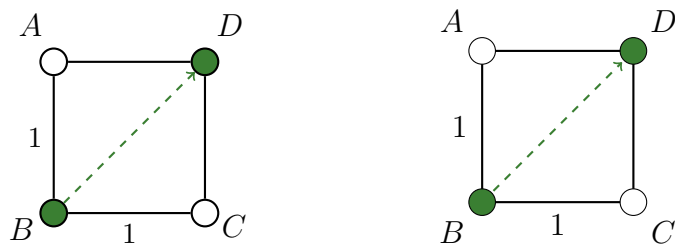
```
\begin{tikzpicture}[scale=0.5]
```

```
.....
```

```
\end{tikzpicture}
```

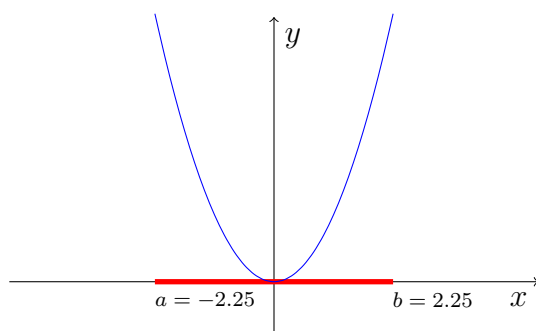
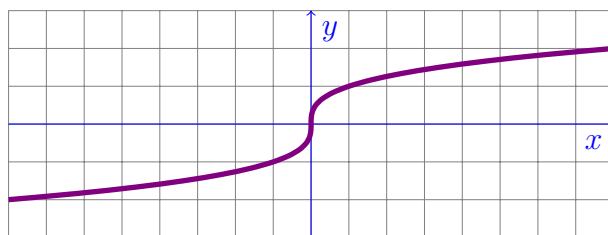


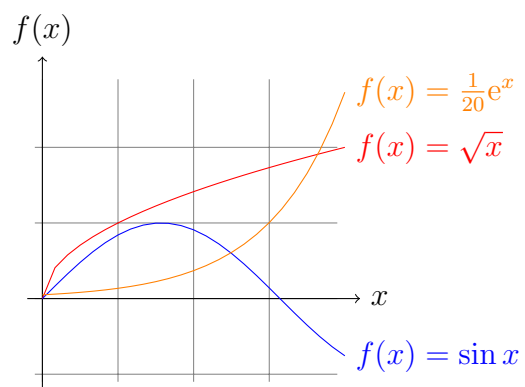
RYSUNEK 3. Suma wektorów



RYSUNEK 4. Kwadrat ze strzałkami

3. WYKRESY FUNKCJI

RYSUNEK 5. $y = x^2$ na $(-2.25, 2.25)$ RYSUNEK 6. $y = \sqrt[3]{x}$ na $(-8, 8)$

RYSUNEK 7. *Kilka wykresów na na $[0, 4]$